

**SCHOOL BASED ASSESSMENT-2023**  
**ORAL ASSESSMENT**  
**MATHEMATICS**  
**GRADE - 2**

**GENERAL INSTRUCTIONS**

- Get one **coloured print** copy of this paper to be used by the teacher only for oral assessment.
- Do not ask the student to read any question.
- Put paper in front of the student to see images and ask question where needed.
- In case of any confusion, the teacher will repeat the question.
- Paper consists of following types of questions.
  1. Multiple Choice Questions (MCQs)
  2. Fill in the blanks
  3. Identifications
  4. Answer Questions
  5. Column Matching
- Teacher will ask any 4 questions out of 5 from each section, from each student.
- Teacher will count the correct answers of each student and will multiply it by 5 to get the total marks. This will be the total marks obtained by the student.
- For example: Teacher will ask 4 questions from each section (20 in total) and student answers 20 questions correctly, then teacher will award (20 x 5 = 100) hundred marks to the student.
- Teacher can ask questions in Urdu / English medium as per medium of instruction to the students.

**عمومی ہدایات**

- پیپر کا تزیینا ایک رنگ دار پرنٹ نکلو انیں جو ٹیچر زبانی امتحان لینے کے لیے استعمال کرے گا۔ پیپر پانچ سیکشن پر مشتمل ہے اور ہر سیکشن میں پانچ سوالات ہیں۔

- |                          |                     |
|--------------------------|---------------------|
| 1- کثیر الانتخابی سوالات | 2- خالی جگہ پر کرنا |
| 3- شناخت کریں            | 4- سوالات کے جوابات |
| 5- کالم میچنگ            |                     |

- طالب علم سے سوال پڑھنے کو ہرگز مت کہیں۔ اساتذہ ہر طالب علم سے ہر سیکشن میں سے کوئی سے چار سوالات پوچھیں گے اور اس طرح پورے پیپر سے کل بیس سوالات پوچھے جائیں گے۔ جس زبان میں طلبہ کو پڑھایا جا رہا ہے، اساتذہ اُس کے مطابق طلبا سے اردو / انگریزی زبان میں سوالات پوچھ سکتے ہیں۔
- اساتذہ صحیح جوابات گنیں اور اس کو 5 سے ضرب دیں۔ یہ نمبر طالب علم کے کل حاصل کردہ نمبر ہوں گے۔ مثال کے طور پر: استاد ہر سیکشن سے چار سوالات پوچھتا / پوچھتی ہے اور طالب علم بیس سوالات کا صحیح جواب دیتا ہے تو استاد طالب علم کو (20 x 5 = 100) سو نمبر دے گا / گی۔

## SECTION 1

### Multiple Choice Questions - کثیر الانتخابی سوالات

ہدایات برائے ممتحن: ممتحن بچوں کو دی گئی رقم دیکھ کر الفاظ میں پڑھنے کا کہے۔

**Q. No. 1:** The given numbers will be read as:

دیئے گئے اعداد کو پڑھیں گے۔



- a) Five hundred and twelve      پانچ سو بارہ
- b) Five hundred and twenty one      پانچ سو اکیس
- c) Five hundred and thirty one      پانچ سو اکتیس
- d) Five hundred and forty one      پانچ سو اکتالیس

ہدایات برائے ممتحن: استاد بچوں کو لکیر دار عدد کی نشاندہی کرنے اور اس کی مقامی قیمت بتانے کو کہے۔

**Q. No. 2:** Identify the place value of 6:

6 کی مقامی قیمت کی شناخت کریں۔



- a) 45      b) 46      c) 60      d) 64

---

ہدایات برائے ممتحن: ممتحن بچے کو نیچے دی گئی ترتیب دکھائے اور اس میں سے بڑے سے چھوٹے عدد کی درست ترتیب کی نشاندہی کروائے۔

---

**Q. No. 3: The correct descending order of given numbers is:**

دیئے گئے اعداد کی درست نزولی ترتیب ہے۔



- a) 457, 437, 497
- b) 457, 497, 437
- c) 497, 457, 437
- d) 497, 437, 457

---

ہدایات برائے ممتحن: ممتحن بچے کو نیچے دی گئی ترتیب دکھائے اور پھر آخری رقم کے بارے میں پوچھیں۔

---

**Q. No. 4: Read the numbers and identify the next term:**

اعداد کو پڑھیں اور اگلی رقم کی نشاندہی کریں۔



- a) 90
- b) 100
- c) 110
- d) 120

**Q. No. 5: Identify the smallest number:**

سب سے چھوٹے عدد کی نشاندہی کریں۔



a) 39

b) 48

c) 64

d) 81

## SECTION 2

خالی جگہ پُر کریں – Fill in the Blank

ہدایات برائے ممتحن: ممتحن بچے کو نمبر دکھائے اور انہیں جمع کرنے کو کہے۔

**Q. No. 1: Add:**

جمع کریں۔

76

+4

a) 70

b) 72

c) 80

d) 90

ہدایات برائے ممتحن: ممتحن بچے کو نمبر دکھائے اور انہیں تفریق کرنے کو کہے۔

**Q. No. 2: Subtract:**

تفریق کریں۔

53

- 8

a) 41

b) 45


c) 55

d) 61

ہدایات برائے ممتحن: ممتحن بچے کو دیئے گئے سوال کی وضاحت کرے اور اس سے سوال کا جواب پوچھے۔

Q. No. 3: A cat has 4 legs. Then legs of 9 cats will be:

ایک بلی کی 4 ٹانگیں ہیں۔ تو 9 بلیوں کی کتنی ٹانگیں ہوں گی؟



$$\begin{array}{r} 9 \\ \times 4 \\ \hline \end{array}$$

a) 13

b) 32

c) 36

d) 40

ہدایات برائے ممتحن: ممتحن بچے کو سوال کی وضاحت کریں اور اس سے سوال کا جواب پوچھے۔

Q. No. 4: Ali distributes 12 lollipops equally in 4 friends. How many lollipop does each friend will get?

علی 12 لالی پاپ 4 دوستوں میں برابر تقسیم کرتا ہے۔ ہر دوست کو کتنے لالی پاپ ملیں گے؟



÷



a) 3

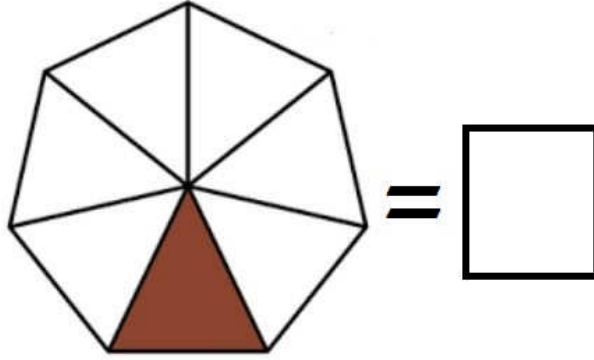
b) 4

c) 5

d) 6

**Q. No.5:** The fraction of coloured part of the given figure is:

دی گئی شکل کے رنگ دار حصے کی کسر ہے۔



a)  $\frac{1}{5}$

b)  $\frac{1}{6}$

c)  $\frac{1}{7}$

d)  $\frac{1}{8}$

### SECTION 3

#### شناخت کریں-Identification

ہدایات برائے ممتحن: ممتحن بچے کو تصاویر دکھا کر لمبائی میں لمبی شے کی نشاندہی کرنے کا کہے۔

**Q. No. 1: Which object is the longest?**

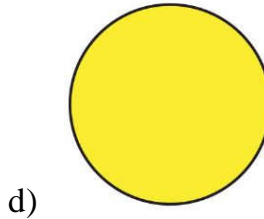
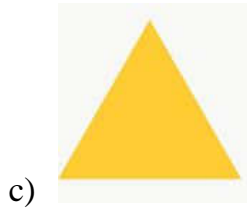

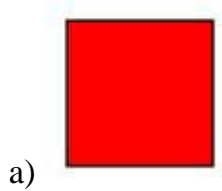
کون سی شے لمبائی میں سب سے بڑی ہے؟



ہدایات برائے ممتحن: ممتحن بچے کو نیچے دی گئی اشکال دکھا کر دائرہ کی نشاندہی کرنے کو کہے۔

**Q. No. 2: Which of the given figure is a circle?**



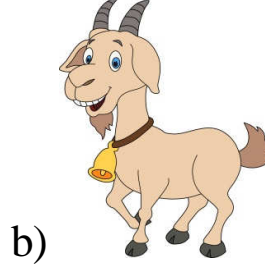
دی گئی اشکال میں سے دائرہ کون سا ہے؟



ہدایات برائے ممتحن: ممتحن بچے کو تصاویر دکھا کر سب سے زیادہ وزن والے جانور کی نشاندہی کرنے کا کہے۔

**Q. No. 3: Which animal is heaviest in mass?**

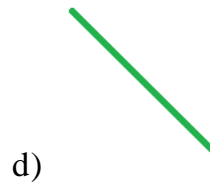
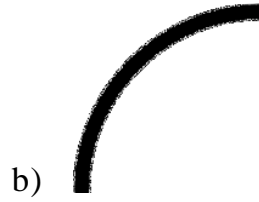
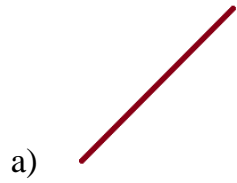
سب سے زیادہ وزن والا جانور کون سا ہے؟



ہدایات برائے ممتحن: ممتحن بچے کو دی گئی لائنیں دکھا کر قوسی لائن کی نشاندہی کرنے کو کہے۔

**Q. No. 4: Which of the given lines is a curve line?**

دی گئی لائنوں میں سے قوسی لائن کون سی ہے؟



**Q. No. 5: Which object has the more capacity?**

سب سے زیادہ گنجائش والی شے کون سی ہے؟



SECTION 4

سوالات کے جواب دیں- Answer the Questions

ہدایات برائے ممتحن: ممتحن بچے کو زبانی سوال کی عبارت سمجھائے اور درست جواب بتانے کو کہے۔

Q. No. 1: Minutes in  $\frac{1}{2}$  hour are:

آدھے گھنٹے میں منٹ ہوتے ہیں۔


a) 20 b) 30

c) 40 d) 50

ہدایات برائے ممتحن: ممتحن بچے کو دی گئی گھڑی دیکھا کر درست وقت بتانے کو کہے۔

Q. No. 2: Time on the given clock is:

دی گئی گھڑی پر وقت ہے۔


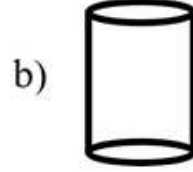


a) 1:09 b) 1:45

c) 9:01 d) 9:05

**Q. No. 3: Identify the cylinder:**

سلنڈر کی پہچان کریں۔



**Q. No. 4: Sides of the given figure are:**

دی گئی شکل کے اضلاع ہیں۔



a) **1**

b) **2**

c) **3**

d) **4**

ہدایات برائے ممتحن: ممتحن بچے کو دیا گیا کیلنڈر دکھا کر پوچھے گئے دن کی نشاندہی کرنے کو کہے۔

Q. No. 5: The day on 6<sup>th</sup> Rajab is:

6 رجب کو کون سا دن ہے؟

رجب Rajab						
Sunday	Monday	Tuesday	Wednesday	Thursday	Friday	Saturday
اتوار	سوموار	منگل	بدھ	جمعرات	جمعہ	ہفتہ
				1	2	3
4	5	6	7	8	9	10
11	12	13	14	15	16	17
18	19	20	21	22	23	24
25	26	27	28	29	30	

a) Sunday اتوار

b) Monday پیر

c) Tuesday منگل

d) Wednesday بدھ

## SECTION 5

Match the Column – کالم ملائیں

ہدایات برائے ممتحن: ممتحن بچے کو نیچے دیئے گئے کالموں میں سے کوئی سے چار کالم کو آپس میں درستگی سے ملانے کو کہے۔

Question: Match the columns.

دیئے گئے کالم ملائیں۔

i			Square مربع
ii	Shaban شعبان		
iii			Evening Time رات کا وقت
iv	Morning Time صبح کا وقت		8 <sup>th</sup> Islamic month آٹھواں اسلامی مہینہ
v			$\frac{2}{3}$