
**SCHOOL BASED ASSESSMENT-2023
ORAL ASSESSMENT
MATHEMATICS
GRADE - 2**

KEY

SECTION 1

Multiple Choice Questions - کثیر الانتخابی سوالات

ہدایات برائے ممتحن: ممتحن بچوں کو دی گئی رقم دیکھ کر الفاظ میں پڑھنے کا کہے۔

Q. No. 1: The given numbers will be read as:

دیئے گئے اعداد کو پڑھیں گے۔



- a) Five hundred and twelve پانچ سو بارہ
- b) Five hundred and twenty one پانچ سو اکیس
- c) Five hundred and thirty one پانچ سو اکتیس
- d) Five hundred and forty one پانچ سو اکتالیس

Q. No. 2: Identify the place value of 6:

6 کی مقامی قیمت کی شناخت کریں۔



a) 45

b) 46

c) 60

d) 64

ہدایات برائے ممتحن: ممتحن بچے کو نیچے دی گئی ترتیب دکھائے اور اس میں سے بڑے سے چھوٹے عدد کی درست ترتیب کی نشاندہی کروائے۔

Q. No. 3: The correct descending order of given numbers is:

دیئے گئے اعداد کی درست نزولی ترتیب ہے۔



a) 457, 437, 497

b) 457, 497, 437

c) 497, 457, 437

d) 497, 437, 457

Q. No. 4: Read the numbers and identify the next term:

اعداد کو پڑھیں اور اگلی رقم کی نشاندہی کریں۔



- a) 90 b) 100
c) 110 d) 120

Q. No. 5: Identify the smallest number:

سب سے چھوٹے عدد کی نشاندہی کریں۔



a) 39

b) 64

c) 48

d) 81

SECTION 2

خالی جگہ پُر کریں – Fill in the Blank

ہدایات برائے ممتحن: ممتحن بچے کو نمبر دکھائے اور انہیں جمع کرنے کو کہے۔

Q. No. 1: Add:

جمع کریں۔

76

+4

a) 70

b) 72

Ⓒ 80

d) 90

ہدایات برائے ممتحن: ممتحن بچے کو نمبر دکھائے اور انہیں تفریق کرنے کو کہے۔

Q. No. 2: Subtract:

تفریق کریں۔

53

- 8

a) 41

Ⓑ 45


c) 55

d) 61

ہدایات برائے ممتحن: ممتحن بچے کو دیئے گئے سوال کی وضاحت کرے اور اس سے سوال کا جواب پوچھے۔

Q. No. 3: A cat has 4 legs. Then legs of 9 cats will be:

ایک بلی کی 4 ٹانگیں ہیں۔ تو 9 بلیوں کی کتنی ٹانگیں ہوں گی؟



$$\begin{array}{r} 9 \\ \times 4 \\ \hline \end{array}$$

a) 13

b) 32

c) 36

d) 40

ہدایات برائے ممتحن: ممتحن بچے کو سوال کی وضاحت کریں اور اس سے سوال کا جواب پوچھے۔

Q. No. 4: Ali distributes 12 lollipops equally in 4 friends. How many lollipop does each friend will get?

علی 12 لالی پاپ 4 دوستوں میں برابر تقسیم کرتا ہے۔ ہر دوست کو کتنے لالی پاپ ملیں گے؟



÷



= □

a) 3

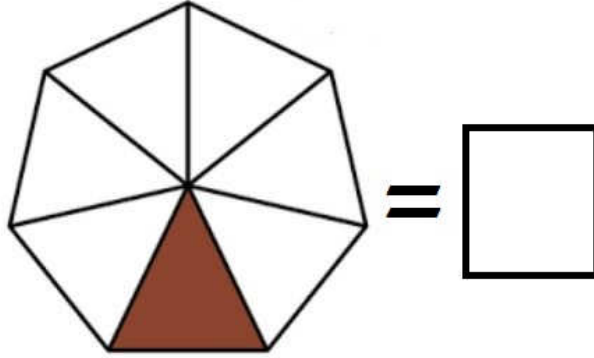
b) 4

c) 5

d) 6

Q. No.5: The fraction of coloured part of the given figure is:

دی گئی شکل کے رنگ دار حصے کی کسر ہے۔



a) $\frac{1}{5}$

b) $\frac{1}{6}$

c) $\frac{1}{7}$

d) $\frac{1}{8}$

SECTION 3

شناخت کریں - Identification

ہدایات برائے ممتحن: ممتحن بچے کو تصاویر دیکھا کر لمبائی میں لمبی شے کی نشاندہی کرنے کا کہے۔

Q. No. 1: Which object is the longest?

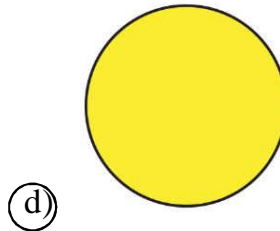
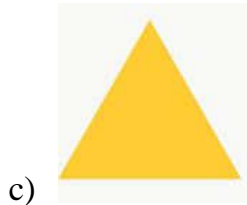


کون سی شے لمبائی میں سب سے بڑی ہے؟



ہدایات برائے ممتحن: ممتحن بچے کو نیچے دی گئی اشکال دکھا کر دائرہ کی نشاندہی کرنے کو کہے۔

Q. No. 2: Which of the given figure is a circle?




دی گئی اشکال میں سے دائرہ کون سا ہے؟



ہدایات برائے ممتحن: ممتحن بچے کو تصاویر دیکھا کر سب سے زیادہ وزن والے جانور کی نشاندہی کرنے کا کہے۔

Q. No. 3: Which animal is heaviest in mass?

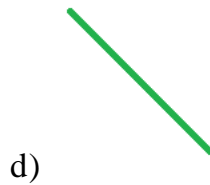

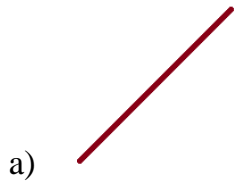
سب سے زیادہ وزن والا جانور کون سا ہے؟



ہدایات برائے ممتحن: ممتحن بچے کو دی گئی لائنیں دیکھا کر قوسی لائن کی نشاندہی کرنے کو کہے۔

Q. No. 4: Which of the given lines is a curve line?

دی گئی لائنوں میں سے قوسی لائن کون سی ہے؟



Q. No. 5: Which object has the more capacity?

سب سے زیادہ گنجائش والی شے کون سی ہے؟



SECTION 4

سوالات کے جواب دیں- Answer the Questions

ہدایات برائے ممتحن: ممتحن بچے کو زبانی سوال کی عبارت سمجھائے اور درست جواب بتانے کو کہے۔

Q. No. 1: Minutes in $\frac{1}{2}$ hour are:

آدھے گھنٹے میں منٹ ہوتے ہیں۔

a) 20

b) 30


c) 40

d) 50

ہدایات برائے ممتحن: ممتحن بچے کو دی گئی گھڑی دیکھا کر درست وقت بتانے کو کہے۔

Q. No. 2: Time on the given clock is:

دی گئی گھڑی پر وقت ہے۔



a) 1:09


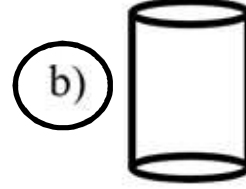
b) 1:45

c) 9:01

d) 9:05

Q. No. 3: Identify the cylinder:

سلنڈر کی پہچان کریں۔



ہدایات برائے ممتحن: ممتحن بچے کو دی گئی شکل کے اضلاع بتانے کو کہے۔

Q. No. 4: Sides of the given figure are:

دی گئی شکل کے اضلاع ہیں۔



a) 1

b) 2

c) 3

d) 4

ہدایات برائے ممتحن: ممتحن بچے کو دیا گیا کیلنڈر دکھا کر پوچھے گئے دن کی نشاندہی کرنے کو کہے۔

Q. No. 5: The day on 6th Rajab is:

6 رجب کو کون سا دن ہے؟

رجب Rajab						
Sunday	Monday	Tuesday	Wednesday	Thursday	Friday	Saturday
اتوار	سوموار	منگل	بدھ	جمعرات	جمعہ	ہفتہ
				1	2	3
4	5	6	7	8	9	10
11	12	13	14	15	16	17
18	19	20	21	22	23	24
25	26	27	28	29	30	

- a) **Sunday** اتوار b) **Monday** پیر
c) **Tuesday** منگل d) **Wednesday** بدھ


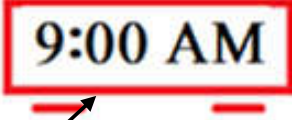


SECTION 5

کالم ملائیں
Match the Column-

ہدایات برائے ممتحن: ممتحن بچے کو نیچے دیئے گئے کالموں میں سے کوئی سے چار کالم کو آپس میں درنگلی سے ملانے کو کہے۔

Question: Match the columns.

دیئے گئے کالم ملائیں۔

i			Square مربع
ii	Shaban شعبان		
iii			Evening Time رات کا وقت
iv	Morning Time صبح کا وقت		8 th Islamic month آٹھواں اسلامی مہینہ
v			$\frac{2}{3}$