

SCHOOL BASED ASSESSMENT-2023
ORAL ASSESSMENT
MATHEMATICS
GRADE – 1

GENERAL INSTRUCTIONS

- Get one **coloured print** copy of this paper to be used by the teacher only for oral assessment.
- Do not ask the student to read any question.
- Put paper in front of the student to see images and ask question where needed.
- In case of any confusion, the teacher will repeat the question.
- Paper consists of following types of questions.
 1. Multiple Choice Questions (MCQs)
 2. Fill in the blanks
 3. Identifications
 4. Answer Questions
 5. Column Matching
- Teacher will ask any 4 questions out of 5 from each section, from each student.
- Teacher will count the correct answers of each student and will multiply it by 5 to get the total marks. This will be the total marks obtained by the student.
- For example: Teacher will ask 4 questions from each section (20 in total) and student answers 20 questions correctly, then teacher will award (20 x 5 = 100) hundred marks to the student.
- Teacher can ask questions in Urdu / English medium as per medium of instruction to the students.

عمومی ہدایات

- پیپر کا تزییناً ایک رنگ دار پرنٹ نکلوائیں جو ٹیچر زبانی امتحان لینے کے لیے استعمال کرے گا۔ پیپر پانچ سیکشن پر مشتمل ہے اور ہر سیکشن میں پانچ سوالات ہیں۔

1- کثیر الانتخابی سوالات	2- خالی جگہ پر کرنا
3- شناخت کریں	4- سوالات کے جوابات
5- کالم میچنگ	

- طالب علم سے سوال پڑھنے کو ہرگز مت کہیں۔ اساتذہ ہر طالب علم سے ہر سیکشن میں سے کوئی سے چار سوالات پوچھیں گے اور اس طرح پورے پیپر سے کل بیس سوالات پوچھے جائیں گے۔ جس زبان میں طلبہ کو پڑھایا جا رہا ہے، اساتذہ اس کے مطابق طلبہ سے اردو / انگریزی زبان میں سوالات پوچھ سکتے ہیں۔
- اساتذہ صحیح جوابات گنیں اور اس کو 5 سے ضرب دیں۔ یہ نمبر طالب علم کے کل حاصل کردہ نمبر ہوں گے۔ مثال کے طور پر: استاد ہر سیکشن سے چار سوالات پوچھتا / پوچھتی ہے اور طالب علم بیس سوالات کا صحیح جواب دیتا ہے تو استاد طالب علم کو (20 x 5 = 100) سو نمبر دے گا / گی۔

SECTION 1

Multiple Choice Questions – کثیر الانتخابی سوالات

ہدایات برائے ممتحن: ممتحن بچے کو سوال بتائے اور درست جواب کا انتخاب کرنے کے لئے کہے۔

Q. No. 1: How many birds are sitting on branch of tree?

درخت کی شاخ پر کتنے پرندے بیٹھے ہیں؟



(a) 3

(b) 4

(c) 5

(d) 6

ہدایات برائے ممتحن: ممتحن بچے کو سوال بتائے اور درست جواب کا انتخاب کرنے کے لئے کہے۔

Q. No. 2: How many kids are pulling the rope?

کتنے بچے رسی کھینچ رہے ہیں؟



(a) 2

(b) 4

(c) 6


(d) 8

ہدایات برائے ممتحن: ممتحن بچے کو دیکھ گئے سوال کی وضاحت کرے اور اس سے درست جواب کا انتخاب کرنے کے لئے کہے۔

Q. No.3: Waseem had 12 Balloons. 5 balloons are popped. How many balloons are left with him?



وسیم کے پاس 12 غبارے تھے۔ جن میں سے 5 غبارے پھٹ گئے۔ اس کے پاس کتنے غبارے باقی بچے؟



- (a) 4 (b) 5 (c) 6 (d) 7

ہدایات برائے ممتحن: ممتحن بچے کو سوال بتائے اور درست جواب کا انتخاب کرنے کے لئے کہے۔

Q. No. 4: If the boy is at 1st position then what will be the position of Cat?

اگر لڑکا پہلی پوزیشن پر ہو تو بلی کی پوزیشن کیا ہوگی؟



- (a) 1st
(b) 2nd
(c) 3rd
(d) 4th

Q. No.5: Which of the following is a correct descending order of numbers?

اعداد کی درست ترتیب نزولی کون سی ہے؟

a) 9, 4, 5, 8, 7

b) 9, 8, 7, 5, 6

c) 9, 8, 7, 6, 5

d) 9, 4, 5, 6, 7


SECTION 2

خالی جگہ پُر کریں — Fill In the Blank

ہدایات برائے ممتحن: ممتحن بچے کو سوال بتائے اور خالی جگہ میں آنے والے جواب کے بارے میں پوچھے۔

Q. No. 1: How many apples will be in empty box?

خالی ڈبے میں کتنے سیب آئیں گے؟



(a) 18

(b) 22

(c) 24

(d) 26

ہدایات برائے ممتحن: ممتحن بچے کو سوال بتائے اور خالی جگہ میں آنے والے جواب کے بارے میں پوچھے۔

Q. No. 2: Which number will come in the missing place?

خالی جگہ میں کون سا عدد آئے گا؟

17, 18, __, 20

a) 19

b) 21

c) 23

d) 25

ہدایات برائے ممتحن: ممتحن بچے کو سوال بتائے اور درست جواب کا انتخاب کرنے کے لئے کہے۔

Q. No. 3: How many birds are in the given figure?

دی گئی تصویر میں کتنے پرندے ہیں؟



(a) 9

(b) 12


(c) 15

(d) 17

ہدایات برائے ممتحن: ممتحن بچے کو سوال بتائے اور خالی جگہ میں آنے والے جواب کے بارے میں پوچھے۔

Q. No. 4: Samina bought 14 eggs and cooked 5 out of them. How many eggs left?

شمینہ نے 14 انڈے خریدے جن میں سے 5 اس نے پکالیے۔ کتنے انڈے باقی بچے؟



$$\boxed{14} - \boxed{5} = \boxed{}$$

(a) 5

(b) 9

(c) 15

(d) 19

Q. No. 5: Subtract.

تفریق کریں۔

	دہائی Tens	اکائی Ones
	4	8
—	3	6
	<input type="text"/>	

(a) 12

(b) 15

(c) 17

(d) 22

SECTION 3

شناخت کریں – Identification

ہدایات برائے ممتحن: ممتحن بچے کو نیچے دی گئی تصاویر دکھا کر وضاحت کرے اور درست جواب کی نشان دہی کرنے کو کہے۔

Q. No.1: Identify the highest object:

سب سے اونچی چیز کی نشان دہی کریں۔



(a)



(b)



(c)




(d)

ہدایات برائے ممتحن: ممتحن بچے کو نیچے دی گئی تصاویر دکھا کر وضاحت کرے اور درست جواب کی نشان دہی کرنے کو کہے۔

Q. No. 2: Identify the lightest animal:

جانوروں میں سب سے ہلکے جانور کی نشان دہی کریں۔

(a)



(b)



(c)




(d)



ہدایات برائے ممتحن: ممتحن بچے کو نیچے دی گئی تصاویر دکھا کر وضاحت کرے اور درست جواب کی نشان دہی کرنے کو کہے۔

Q. No.3: Identify the tallest animal.

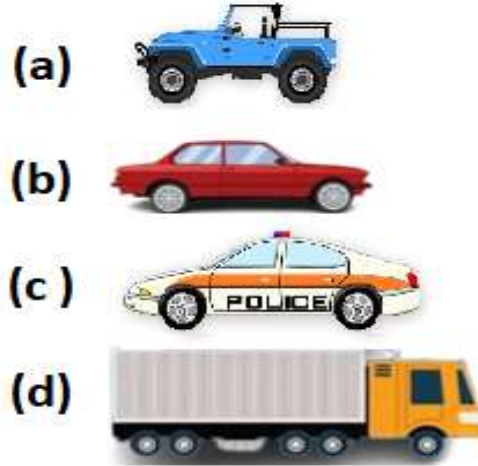
سب سے اونچے جانور کی نشان دہی کریں۔



ہدایات برائے ممتحن: ممتحن بچے کو نیچے دی گئی تصاویر دکھا کر وضاحت کرے اور درست جواب کی نشان دہی کرنے کو کہے۔

Q. No. 4: Identify the longest vehicle.

سب سے لمبی گاڑی کی نشان دہی کریں۔



ہدایات برائے ممتحن: ممتحن بچے کو نیچے دی گئی تصاویر دکھا کر وضاحت کرے اور درست جواب کی نشان دہی کرنے کو کہے۔

Q. No.5: Identify the heaviest object:

سب سے بھاری چیز کی نشان دہی کریں۔



(a)



(b)



(c)



(d)

SECTION 4

سوالات کے جواب دیں- Answer the Questions-

ہدایات برائے ممتحن: ممتحن بچے کو نیچے دی گئی تصاویر دکھا کر وضاحت کرے اور پوچھے گئے سوال کا درست جواب دینے کو کہے۔

Q. No. 1: Add the currency notes:

کرئی نوٹوں کو جمع کریں۔



(a) 50

(b) 60

(c) 70

(d) 80

ہدایات برائے ممتحن: ممتحن بچے کو نیچے دی گئی تصاویر دکھا کر وضاحت کرے اور پوچھے گئے سوال کا درست جواب دینے کو کہے۔

Q.No.2: Which month comes after October on calendar?

کیلنڈر میں اکتوبر کے بعد کون سا مہینہ آتا ہے؟

January
جنوری

(a)

February
فروری

(b)

November
نومبر

(c)

December
دسمبر

(d)

ہدایات برائے ممتحن: ممتحن بچے کو نیچے دی گئی تصویر دکھا کر وضاحت کرے اور پوچھے گئے سوال کا درست جواب دینے کو کہے۔

Q. No. 3: What is the time on the given clock?

دی گئی گھڑی پر کیا وقت ہوا ہے؟



(a) 5 O'clock بجے 5

(b) 7 O'clock بجے 7


(c) 9 O'clock بجے 9

(d) 12 O'clock بجے 12


ہدایات برائے ممتحن: ممتحن بچے کو نیچے دی گئی تصاویر دکھا کر وضاحت کرے اور پوچھے گئے سوال کا درست جواب دینے کو کہے۔

Q. No. 4: In which figure the ball is on the box?


کوئی تصویر میں گیند ڈبے کے اوپر ہے؟




(a)



(b)



(c)



(d)

ہدایات برائے ممتحن: ممتحن بچے کو نیچے دی گئی تصاویر دکھا کر وضاحت کرے اور پوچھے گئے سوال کا درست جواب دینے کو کہے۔

Q. No. 5: In the given picture who is near the tree?

دی گئی تصویر میں کون درخت کے نزدیک ہے؟



- (a) Boy لڑکا
(b) Girl لڑکی
(c) Cat بلی
(d) Dog کُتا





SECTION 5

Match the Column – کالم ملائیں

ہدایات برائے ممتحن: ممتحن بچے کو نیچے دیئے گئے کالموں میں سے کوئی سے چار کالم آپس میں درستی سے ملانے کو کہے۔

Q: Match the columns:

کالم ملائیں۔

(i)		6th Solar Month - چھٹا شمسی مہینہ
(ii)		Rs. 50 50 روپے
(iii)	June جون	4
(iv)		Inside اندر
(v)		Oval بیضوی