
**SCHOOL BASED ASSESSMENT-2023
ORAL ASSESSMENT
MATHEMATICS
GRADE - 1**

KEY


SECTION 1

Multiple Choice Questions – کثیر الانتخابی سوالات

ہدایات برائے ممتحن: ممتحن بچے کو سوال بتائے اور درست جواب کا انتخاب کرنے کے لئے کہے۔

Q. No. 1: How many birds are sitting on branch of tree?

درخت کی شاخ پر کتنے پرندے بیٹھے ہیں؟



(a) 3

(b) 4

(c) 5

(d) 6

ہدایات برائے ممتحن: ممتحن بچے کو سوال بتائے اور درست جواب کا انتخاب کرنے کے لئے کہے۔

Q. No. 2: How many kids are pulling the rope?

کتنے بچے رسی کھینچ رہے ہیں؟



(a) 2

(b) 4


(c) 6

(d) 8

Q. No.3: Waseem had 12 Balloons. 5 balloons are popped. How many balloons are left with him?



وسیم کے پاس 12 غبارے تھے۔ جن میں سے 5 غبارے پھٹ گئے۔ اس کے پاس کتنے غبارے باقی بچے؟



- (a) 4 (b) 5 (c) 6 (d) 7

Q. No. 4: If the boy is at 1st position then what will be the position of Cat?

اگر لڑکا پہلی پوزیشن پر ہو تو بلی کی پوزیشن کیا ہوگی؟



(a) 1st

(b) 2nd

(c) 3rd

(d) 4th

Q. No.5: Which of the following is a correct descending order of numbers?

اعداد کی درست ترتیب نزولی کون سی ہے؟

a) 9, 4, 5, 8, 7

b) 9, 8, 7, 5, 6

c) 9, 8, 7, 6, 5

d) 9, 4, 5, 6, 7


SECTION 2

Fill In the Blank — خالی جگہ پُر کریں

ہدایات برائے ممتحن: ممتحن بچے کو سوال بتائے اور خالی جگہ میں آنے والے جواب کے بارے میں پوچھے۔

Q. No. 1: How many apples will be in empty box?

خالی ڈبے میں کتنے سیب آئیں گے؟



(a) 18

(b) 22

(c) 24

(d) 26

ہدایات برائے ممتحن: ممتحن بچے کو سوال بتائے اور خالی جگہ میں آنے والے جواب کے بارے میں پوچھے۔

Q. No. 2: Which number will come in the missing place?

خالی جگہ میں کون سا عدد آئے گا؟

17, 18, __, 20

a) 19

b) 21

c) 23

d) 25

Q. No. 3: How many birds are in the given figure?

دی گئی تصویر میں کتنے پرندے ہیں؟



(a) 9

(b) 12


(c) 15

(d) 17

ہدایات برائے ممتحن: ممتحن بچے کو سوال بتائے اور خالی جگہ میں آنے والے جواب کے بارے میں پوچھے۔

Q. No. 4: Samina bought 14 eggs and cooked 5 out of them. How many eggs left?

شمینہ نے 14 انڈے خریدے جن میں سے 5 اس نے پکالیے۔ کتنے انڈے باقی بچے؟



$$\boxed{14} - \boxed{5} = \boxed{}$$

(a) 5

(b) 9

(c) 15

(d) 19

Q. No. 5: Subtract.

تفریق کریں۔

دہائی Tens	اکائی Ones
4	8
- 3	6
<input type="text"/>	

(a) 12

(b) 15

(c) 17

(d) 22

SECTION 3

Identification – شناخت کریں

ہدایات: ممتحن بچے کو نیچے دی گئی تصاویر دکھا کر وضاحت کرے اور درست جواب کی نشان دہی کرنے کو کہے۔

Q. No.1: Identify the highest object:

سب سے اونچی چیز کی نشان دہی کریں۔



(a)



(b)



(c)




(d)

ہدایات برائے ممتحن: ممتحن بچے کو نیچے دی گئی تصاویر دکھا کر وضاحت کرے اور درست جواب کی نشان دہی کرنے کو کہے۔

Q. No. 2: Identify the lightest animal:

جانوروں میں سب سے ہلکے جانور کی نشان دہی کریں۔

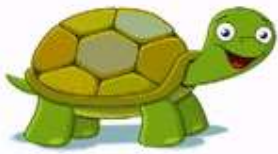
(a)



(b)



(c)




(d)



ہدایات برائے ممتحن: ممتحن بچے کو نیچے دی گئی تصاویر دکھا کر وضاحت کرے اور درست جواب کی نشان دہی کرنے کو کہے۔

Q. No.3: Identify the tallest animal.


سب سے اونچے جانور کی نشان دہی کریں۔



ہدایات: ممتحن بچے کو نیچے دی گئی تصاویر دکھا کر وضاحت کرے اور درست جواب کی نشان دہی کرنے کو کہے۔

Q. No. 4: Identify the longest vehicle.

سب سے لمبی گاڑی کی نشان دہی کریں۔



ہدایات: ممتحن بچے کو نیچے دی گئی تصاویر دکھا کر وضاحت کرے اور درست جواب کی نشان دہی کرنے کو کہے۔

Q. No.5: Identify the heaviest object:

سب سے بھاری چیز کی نشان دہی کریں۔



(a)



(b)



(c)



(d)

SECTION 4

سوالات کے جواب دیں- Answer the Questions

ہدایات: ممتحن بچے کو نیچے دی گئی تصاویر دکھا کر وضاحت کرے اور پوچھے گئے سوال کا درست جواب دینے کو کہے۔

Q. No. 1: Add the currency notes:

کر نسی نوٹوں کو جمع کریں۔



(a) 50

(b) 60

(c) 70

(d) 80

ہدایات: ممتحن بچے کو نیچے دی گئی تصاویر دکھا کر وضاحت کرے اور پوچھے گئے سوال کا درست جواب دینے کو کہے۔

Q.No.2: Which month comes after October on calendar?

کیلنڈر میں اکتوبر کے بعد کون سا مہینہ آتا ہے؟

January
جنوری

(a)

February
فروری

(b)

November
نومبر

(c)

December
دسمبر

(d)

ہدایات: ممتحن بچے کو نیچے دی گئی تصویر دکھا کر وضاحت کرے اور پوچھے گئے سوال کا درست جواب دینے کو کہے۔

Q. No. 3: What is the time on the given clock?

دی گئی گھڑی پر کیا وقت ہوا ہے؟



(a) 5 O'clock بجے 5

(b) 7 O'clock بجے 7

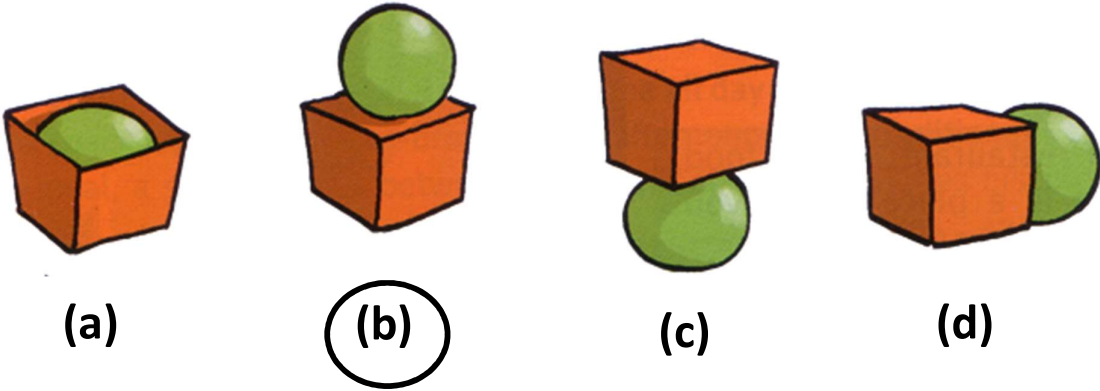
(c) 9 O'clock بجے 9

(d) 12 O'clock بجے 12

ہدایات: ممتحن بچے کو نیچے دی گئی تصاویر دکھا کر وضاحت کرے اور پوچھے گئے سوال کا درست جواب دینے کو کہے۔

Q. No. 4: In which figure the ball is on the box?

کونسی تصویر میں گیند ڈبے کے اوپر ہے؟



ہدایات: ممتحن بچے کو نیچے دی گئی تصاویر دکھا کر وضاحت کرے اور پوچھے گئے سوال کا درست جواب دینے کو کہے۔

Q. No. 5: In the given picture who is near the tree?

دی گئی تصویر میں کون درخت کے نزدیک ہے؟



- (a) Boy لڑکا
(b) Girl لڑکی
(c) Cat بلی
(d) Dog کُتا





SECTION 5

کالم ملائیں - Match the Column

ہدایات برائے ممتحن: ممتحن بچے کو نیچے دیئے گئے کالموں میں سے کوئی سے چار کالم آپس میں درستی سے ملانے کو کہے۔

Q: Match the columns:

کالم ملائیں۔

(i)		6th Solar Month - چھٹا شمسی مہینہ
(ii)		Rs. 50 50 روپے
(iii)	June جون	4
(iv)		Inside اندر
(v)		Oval بیضوی