

SCHOOL BASED ASSESSMENT-2023
ORAL ASSESSMENT
GENERAL KNOWLEDGE
GRADE – 1
Total Marks: 100

General Instructions

Take one preferably colour print of the paper to be used by the teacher only for oral assessment. The paper consists of the following five types of questions.

1. Multiple Choice Questions (MCQs)
2. True / False
3. Short Questions
4. Fill in the blanks
5. Column Matching

Teacher will ask 04 parts in random from each student from each type of question and twenty parts in total. Teacher will count the correct answers and will multiply it by 5 to get the total marks obtained by the student. For example: Teacher asks 04 parts from each question (20 in total) and student answers 17 parts correctly, then the teacher will award $(17 \times 5 = 85)$ eighty five marks to the student. Teacher can ask questions in Urdu / English medium as per medium of instruction to the students.

عمومی ہدایات

پہر کاڑجیاً صرف ایک رنگ دار پرنٹ نکلوائیں جو ٹیچر زبانی امتحان لینے کے لیے استعمال کرے گا۔ پہر پانچ طرح کے سوالات پر مشتمل ہے۔

1. کثیر الانتخابی سوالات

2. صحیح / غلط

3. مختصر سوالات

4. خالی جگہ پر کرنا

5. کالم میچنگ

اساتذہ ہر طالب علم سے ہر سوال سے چار جز اور پورے پہر سے کل بیس جز پوچھیں۔ اساتذہ صحیح جوابات گنیں اور اس کو 5 سے ضرب دیں۔ یہ نمبر طالب علم کے کل حاصل کردہ نمبر ہوں گے۔ مثال کے طور پر: طالب علم سے ہر سوال سے چار جز پوچھے جاتے ہیں اور طالب علم بیس میں سے 17 کا صحیح جواب دیتا ہے تو اساتذہ طالب علم کو $(17 \times 5 = 85)$ پچاس نمبر دے گا۔ اساتذہ طلباء سے اردو / انگریزی زبان میں سوالات پوچھ سکتے ہیں۔

Q.NO.1. Ask any four parts from the following Multiple-Choice Questions (MCQs) and award five marks for each correct answer.

مندرجہ ذیل کثیر الانتخابی سوالات میں سے کوئی سے چار جز پوچھیں اور ہر صحیح جواب کے لئے پانچ نمبر دیں۔

i) Which part of human body is shown in the given image?

دی گئی تصویر میں انسانی جسم کا کون سا عضو دکھایا گیا ہے؟

- | | |
|-----------|------|
| a) Nose | ناک |
| b) Tongue | زبان |
| c) Ear | کان |
| d) Hand | ہاتھ |



ii) Which of the following animals eats only meat?

ذیل میں سے کون سا جانور صرف گوشت کھاتا ہے؟



a)



b)



c)



d)

iii) Children are playing which game?

بچے کون سا کھیل کھیل رہے ہیں؟

- a) Basket ball باسکٹ بال
b) Cricket کرکٹ
c) Badminton بیڈمنٹن
d) Table tennis ٹیبل ٹینس



iv) What should we do while riding a bike?

موٹر سائیکل چلاتے ہوئے ہمیں کیا کرنا چاہیے؟



a)



b)



c)



d)

v) Which of the following animals lives on land?

ذیل میں سے خشکی پر رہنے والا جانور کون سا ہے؟



a)



b)



c)



d)

Q.NO.2. Ask any four parts from the following True or False (T/F) questions and award five marks for each correct answer.

مندرجہ ذیل صحیح / غلط سوالات میں سے کوئی سے چار جز پوچھیں اور ہر صحیح جواب کے لئے پانچ نمبر دیں۔

i)	Garbage should be thrown in the dustbin.	(T/F)	کچرا کوڑے دان میں پھینکنا چاہیے۔
ii)	Lion is a pet animal	(T/F)	شیر ایک پالتو جانور ہے۔
iii)	The scent of flowers is smelled with the help of nose.	(T/F)	پھولوں کی خوشبو ناک کی مدد سے سونگھتے ہیں۔
iv)	Wait for your turn while playing a game.	(T/F)	کھیل کے دوران اپنی باری کا انتظار کریں۔
v)	Do NOT use zebra crossing while crossing the road.	(T/F)	سڑک پار کرتے وقت زمبرا کراسنگ کا استعمال نہ کریں۔

Q.NO.3 Ask any four parts from the following Short Questions and award five marks for each correct answer.

مندرجہ ذیل مختصر سوالات میں سے کوئی سے چار جز پوچھیں اور ہر صحیح جواب کے لئے پانچ نمبر دیں۔

- i) What do we call the place where many families live together?
جہاں کئی خاندان مل جل کر رہتے ہیں ہم اُس جگہ کو کیا کہتے ہیں؟
- ii) What we do during the break in the school?
سکول میں وقفے کے دوران ہم کیا کرتے ہیں؟
- iii) What should we say when we meet someone?
جب ہم کسی سے ملتے ہیں تو ہمیں کیا کہنا چاہیے؟
- iv) How do diseases spread?
بیماریاں کس طرح پھیلتی ہیں؟
- v) Name a pet you like.

اپنے پسندیدہ پالتو جانور کا نام بتائیں۔

Q.NO.4. Ask any four parts from the following fill in the Blanks questions and award five marks for each correct answer.

مندرجہ ذیل خالی جگہ پر کرنے کے سوالات میں سے کوئی سے چار جز پوچھیں اور ہر صحیح جواب کے لئے پانچ نمبر دیں۔






- i) The Sun _____ in the evening. (rises/ sets)
سورج شام کے وقت _____ ہوتا ہے۔ (طلوع / غروب)
- ii) Cat lives _____. (on land/ in water)
بلی _____ رہتی ہے۔ (خشکی پر / پانی میں)
- iii) The place where buses stop is called a/an _____. (bus stop/airport)
جس جگہ بسیں رکتی ہیں اُسے _____ کہتے ہیں۔ (بس اڈہ / ہوائی اڈہ)
- iv) Muslims go to _____ to pray. (library/ mosque)
مسلمان نماز پڑھنے کے لیے _____ میں جاتے ہیں۔ (لائبریری / مسجد)
- v) We should walk on the _____ side of the road. (right/left)
ہمیں سڑک کے _____ طرف چلنا چاہیے۔ (دائیں / بائیں)

Q.No.5. Ask any four matching questions from the following and award five marks for each correct answer.

مندرجہ ذیل کالم میچنگ کے سوالات میں سے کوئی سے چار جز پوچھیں اور ہر صحیح جواب کے لئے پانچ نمبر دیں۔

Match the images of means of transportation in column A with their names in column B.

کالم A میں نقل و حمل کے ذرائع کی تصاویر کو کالم B میں ان کے نام کے ساتھ ملائیں۔

Column A کالم	Column B کالم
	Tonga تاگا
	Bus بس
	Aeroplane ہوائی جہاز
	Cycle سائیکل
	Car کار